

7002

525

Муниципальный этап
Всероссийской олимпиады школьников
по Искусству (Мировой художественной культуре)
2023/2024 учебного года

Комплект заданий для учащихся 7-8 классов







Задания выполняются в течение 180 минут (3 часа)

Номер задания	Баллы	Максимальный балл
1	$11+1=12$	15 15
2	4	16
3	5	10
4	1	6
5	4	15
6	10	15
7	12	22
8		
Общий балл	52	100

Задание 1 (15 баллов)

Рассмотрите представленные в Таблице 1 произведения искусства и выполните задания.

Таблица 1

	
<p style="text-align: center;">1</p>	<p style="text-align: center;">2</p>
	
<p style="text-align: center;">3</p>	<p style="text-align: center;">4</p>
	
<p style="text-align: center;">5</p>	<p style="text-align: center;">6</p>

1.1. Укажите названия древних цивилизаций, к которым относится каждый из представленных памятников. Внесите ответы в таблицу ниже.





№	Название древней цивилизации (древней культуры)	Вид искусства
1)	Древняя Греция ✓	Архитектура ✓
2)	Древний Китай ✓	Великая Китайская стена - архитектура ✓
3)	Древний Рим ✓	Архитектура ✓
4)	Древний Египет ✓	Рельефы - живопись ✓
5)		Скульптура - рельеф ✓
6)	Древняя Индия ✓	Рельефы - скульптура ✓

15

1.2. Укажите названия видов искусства, к которым относится каждый из представленных памятников. Внесите ответы в таблицу в пункте 1.1.

1.3. Выберите среди представленных в Таблице 2 изображений одно, которое НЕ относится ни к одной из цивилизаций, памятники которой представлены в Таблице 1.

Таблица 2

1)		3)	
2)		4)	

2

1.4. Укажите название страны, в которой был выполнен выбранный вами лишний памятник.

1



1.5. Назовите вид искусства, к которому относится выбранный вами лишний памятник.


Иллюстрация, графика

Задание 2 (16 баллов)

Рассмотрите представленные в Таблице 1 изображения и выполните задания.

Таблица 1

	
1	2



3



4



5

2.1. Укажите названия жанров живописи, к которым относятся представленные произведения.

№	Жанр	Художник
1)	Исторический ✓	Буржко ✓
2)	Исторический - Пейзаж ✓	
3)	Исторический ✓	
4)	Исторический - Битва ✓	
5)	Пейзаж ✓	Шивинский ✓

Укажите имена и фамилии художников-авторов представленных произведений. Внесите ответы в таблицу


2.2 Некоторые из художников оставили заметный след в истории развития разных жанров живописи, а некоторые мастера преимущественно работали в своем излюбленном жанре. Так можно сказать о мастерах, создавших полотна 1, 4 и 5. Назовите в отношении каждого из этих трех художников еще две их работы того же жанра, что и приведены в задании.

№	Художник	Названия произведений
1)		
4)		
5)		

Задание 3 (10 баллов)

В Таблице 1 представлены кадры из известных мультфильмов, чьи сюжеты либо опираются на известные истории и сказки Востока, либо же содержат в себе множество восточных мотивов.

Таблица 1



Вам необходимо дать ответы на вопросы о данных произведениях, рассмотрев изображения и заполнив таблицу:


№ вопроса	Вопрос:	Ответ (номер изображения)
1	Какой из представленных кадров взят из мультфильма, произведенного не на территории СССР?	1
2	В каком мультфильме антагониста (противника главного героя) озвучил известный советский актер Анатолий Папанов (который также озвучивал Волка в мультфильме «Ну погоди!»)?	3
3	Какие два мультфильма сняты на основе классических восточных сказок, в отличие от прочих, снятых на основе произведений конкретных авторов?	2, 5 √√
4	Какие два мультфильма были созданы на основе индийских мотивов и сюжетов?	2, 5 √
5	К какому из мультфильмов приложил руку Роберт Саакянц, автор небезызвестного мультфильма «В синем море, в белой пене»?	4 √

№ вопроса	Вопрос:	Ответ (имя и фамилия)
6	Напишите имя и фамилию автора сборника рассказов, на основе которых был создан мультфильм из вопроса №2.	

Задание 4 (6 баллов)

Рассмотрите представленные в Таблице 1 два памятника архитектуры и сравните их.

Таблица 1



4.1. Что объединяет оба представленных памятника?

_____ Стемп √ _____

4.2. Укажите местонахождение представленных памятников архитектуры.


1. _____

2. _____

4.3. Укажите название эпохи/художественного направления, в котором выполнены представленные памятники.

1. _____

4.4 Среди представленных в Таблице 2 памятников, выберите номера тех зданий, которые относятся к той же архитектурной типологии, что и анализируемые вами произведения



Задание 5 (16 баллов)

Литература и живопись находятся в тесной связи: труды писателей часто отображаются на полотнах, а страницы книг украшают красочные иллюстрации художников. В Таблице 1 представлены примеры таких известных изображений, а ниже – цитаты из связанных с ними произведений.

Ваша задача – соединить цитату и иллюстрации (к каждой цитате – по два изображения), а также заполнить таблицу в пункте 6.1., указав имена и фамилии авторов книг и их названия.

1. — Поверьте, ваша милость, — это вовсе не великаны, а ветряные мельницы. А то, что вы называете руками, вовсе не руки, а крылья, которые вертятся от ветра и приводят в движение жернова. — Сразу видно, что ты еще не опытен в рыцарских приключениях. Это великаны!	2. Земную жизнь пройдя до половины, Я очутился в сумрачном лесу, Утратив правый путь во тьме долины. Каков он был, о, как произнесу, Тот дикий лес, дремучий и грозный, Чей давний ужас в памяти несусь!
---	--

3.

Над широким берегом Дуная,
Над великой Галицкой землёй
Плачет, из Путивля долетая,
Голос Ярославны молодой:
«Обернусь я, бедная, кукушкой,
По Дунаю-речке полечу
И рукав с бобровою опушкой
Наклонясь, в Каяле омочу.

4.


— Я не знала, что Чеширские Коты всегда улыбаются... В самом — деле, — я не, знала, что, вообще коты могут улыбаться.

— Они все могут улыбаться, — сказала Герцогиня, — а большинство из них это и делает!

5. В эту минуту мимо меня пролетало встречное ядро, пущенное турками в наш лагерь. Недолго думая, я пересел на него и как ни в чём не бывало помчался обратно.

Конечно, во время полёта я тщательно пересчитал все турецкие пушки и привёз своему командиру самые точные сведения об артиллерии врага.

Таблица 1






Д



Е



Ж



З



И



К

Номер цитаты	Буквы изображений	Название литературного произведения	Автор литературного произведения
1			
2			
3			_____
4			
5			

5.2 В 2023 году прошло 140 лет со дня смерти известного французского живописца и графика, создавшего иллюстрации многих книг, считающихся литературным канон. Среди иллюстраций выше также есть его работы. Назовите его имя и фамилию.






Задание 6 (15 баллов)

✓ Рассмотрите цитаты ниже и изображения в Таблице 1, связанные с темой танца.

<p>✓ 1. <u>Мазурка</u> раздалась. Бывало, Когда гремел <u>Вальс</u> гром, В огромной зале всё дрожало, Паркет трещал под каблуком, Тряслися, дребезжали рамы; Теперь не то: и мы, как дамы, Скользим по лаковым доскам. Но в городах, по деревням Еще <u>валсы</u> сохранила Первоначальные красы: Припрыжки, каблуки, усы Всё те же: их не изменила Лихая мода, наш тиран, Недуг новейших россиян. <i>А. С. Пушкин</i></p>	<p>2. Однообразный и безумный, Как вихорь жизни молодой, Кружится _____ вихорь шумный; Чета мелькает за четой.</p>
<p>3. Отложи на время дело И беги сюда, дружок! ✓ Приглашает <u>мандолина</u> На скалистый бережок. Мандолина и гитара, Струны весело звенят, И, конечно, бубен старый Отчеканивает лад.</p>	<p>4. Мелодия ложится как на ноты, Не представляю — нот же семь всего?! ✓ Мотив я слышу «Арагонской <u>вальсы</u>» И восторгаюсь — так люблю его! Закрыв глаза, себя воображаю Тореадором, стройным, молодым, Быка я на арене побеждаю Под солнцем ярким, небом голубым!</p>

<p>5. Я вижу снова в блеске зал, Улыбки дам, как яркий свет. Оркестр пленительно играл Красивый модный <i>альбом</i>. ✓ Я, словно роза, так свежа, На вас камзол огнём горит, Шептали вы мне, чуть дыша: «Танцуем – раз, два, три»</p>	
--	--

Таблица 1

	
<p>А</p>	<p>Б</p>
	
<p>В</p>	<p>Г</p>
	
<p>Д</p>	

6.1 Вставьте пропущенные названия танцев в цитаты.

6.2 Укажите страны происхождения танцев на изображениях.

Буква изображения	Страна происхождения
А	Италия ✓
Б	Франция ✓
В	Аргентина ✓
Г	Германия ✓
Д	Испания ✓


6.3 Соотнесите цитаты с изображениями, на которых данные танцы изображены.

1	2	3	4	5
б ✓	г ✓	а ✓	д ✓	в ✓

Задание 7 (22 балла)

Рассмотрите изображение в Таблице 1 и ответьте на вопросы.

Таблица 1



7.1 На картине изображены члены творческого союза композиторов. Как он назывался?

7.2 Напишите полные имена музыкантов, на которых указывают стрелки под номерами 1, 2, 3










1 _____

2 _____

3 _____

7.3 В Таблице 2 даны репродукции эскизов к постановкам произведений композиторов, членом кружка, обозначенных стрелками 1, 2 и 3.

Таблица 2

		
1	2	3
		
4	5	6
		
7	8	9

Соотнесите номера репродукций эскизов с авторами музыкальных произведений (авторы 1, 2 и 3 в пункте 8.2.), ответ впишите в таблицу ниже. Напишите названия произведений, к которым сделаны эти эскизы. Ответ также внесите в таблицу:

Авторы	1	2	3
Иллюстрации	3, 4, 8	2, 6, 9	1, 3, 4
Произведения	Зорис водуров	Светлана	К изд. Мирь

Максимальный балл за все задания – 100